

Amerika

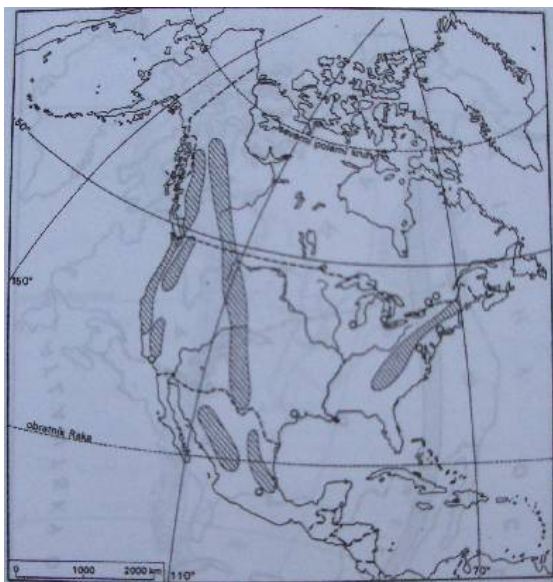
Cíle hodiny:

- 1) žák dokáže určit polohu, rozlohu a členění Ameriky
- 2) žák dokáže popsat povrch Ameriky (zná hlavní pohoří, nížiny, pahorkatiny apod.)
- 3) žák dokáže vyjmenovat hlavní vodní toky a plochy v Americe a dokáže je zakreslit do mapy
- 4) žák dokáže určit, kde se nachází jednotlivé podnebné pásy v Americe a co je pro ně typické
- 5) žák dokáže popsat rozložení vegetačních pásů v Americe a popsat čím jsou charakteristické
- 6) test na přírodní poměry v Americe
- 7) žák dokáže popsat základní charakteristiky obyvatelstva v Americe
- 8) žák dokáže popsat základní charakteristiky USA
- 9) žák dokáže popsat základní charakteristiky Kanady
- 10) žák zná základní informace o Mexiku a dokáže vyjmenovat a určit polohu států ve Střední Americe
- 11) test na obyvatelstvo a státy Severní Ameriky
- 12) žák dokáže popsat, jak se žije v Andských státech (hospodářství)
- 13) žák dokáže popsat 2 největší státy Jižní Ameriky a dokáže určit rozdíly mezi nimi
- 14) žák dokáže vyjmenovat ostatní státy Jižní Ameriky a popsat, co je pro ně typické
- 15) test na státy Jižní Ameriky

ČTVRTLETNÍ TEST – Amerika

- 1) Severní Amerika leží od Asie nejbliže směrem na:..... (1b)
- 2) Který oceán NEomývá Severní Ameriku?..... (1b)

- 3) Průlivem oddělující Asii od Severní Ameriky je: (1b)
- a. Floridský průliv
 - b. Drakeův průliv
 - c. Beringův průliv
 - d. Aljašský průliv
- 4) Do skupin Velkých jezer na hranici Kanady a USA NEpatří: (1b)
- a. Hořejší (Superior)
 - b. Erijské
 - c. Athabaska
 - d. Ontario
- 5) Pohoří zakreslené v mapce východně od pásma Kordiller se nazývá: (1b)
- a. Aleutské pohoří
 - b. Aljašské hory
 - c. Altajské pohoří
 - d. Appalačské pohoří

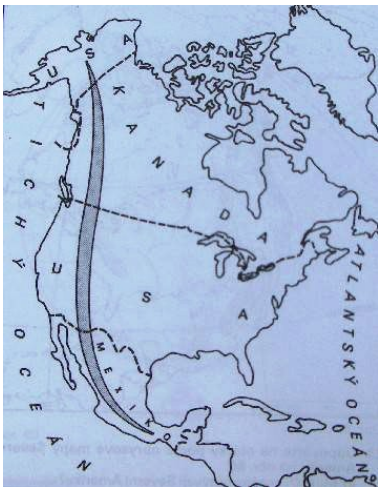


- 6) Přiřaď názvy řek a jejich ústí: (4b)

Mississippi, Mackenzie, Colorado Yukon
Mexický z., Beaufortovo m., Beringovo moře, Kalifornský z.

- 7) V mapce jsou zobrazena pro názornost situace jednotlivá pásma pohoří Kordiller, které prostupuje na západě celou Severní Ameriku, v podobě celistvého "banánu". Vyberte správnou odpověď, která zdůvodňuje souvislost směru tohoto pohoří s častým průnikem studeného arktického vzduchu hluboko do vnitrozemí Severní Ameriky.
- Kordillery mají poledníkový směr, který nebrání pronikání studeného vzduchu od severu k jihu.
 - Kordillery mají rovnoběžkový směr, který nebrání průniku studeného vzduchu od západu k východu.
 - Rovnoběžkový směr pohoří Kordiller brání přístupu teplého oceánského vzduchu od jihu.
 - Poledníkový směr pohoří Kordiller brání přístupu teplého oceánského vzduchu do východu.

(1b)



- 8) Nejvíce obyvatel v Americe mluví..... , Tímto jazykem se hovoří ve světadílu, který se nazývá..... , jedná se především o oblast dvou velkých států.....a..... , jak se nazývá ta část Ameriky, kde převládá španělský a portugalský jazyk a kultura.....

(4b)

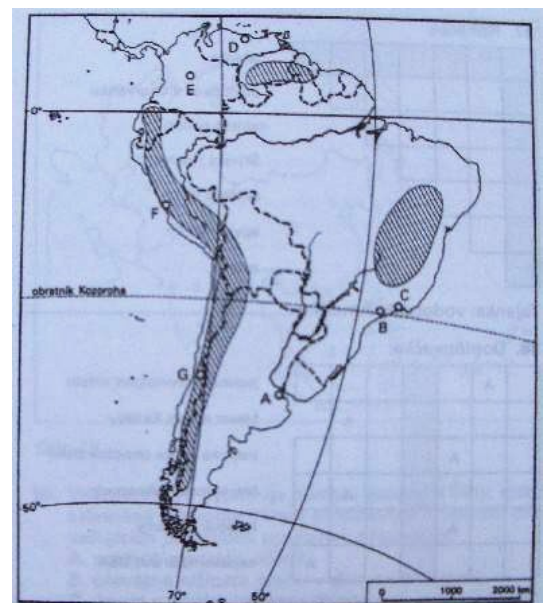
- 9) V obrysové mapce jsou vyznačeny jihoamerické vysočiny. Zakroužkujte správnou odpověď (3b)

- Kordillery
- Apeniny
- Guyanská vysočina
- Etiopská vysočina
- Brazilská vysočina
- Altaj
- Andy

- 10) Nejjižnější výběžek Jižní Ameriky tvoří:

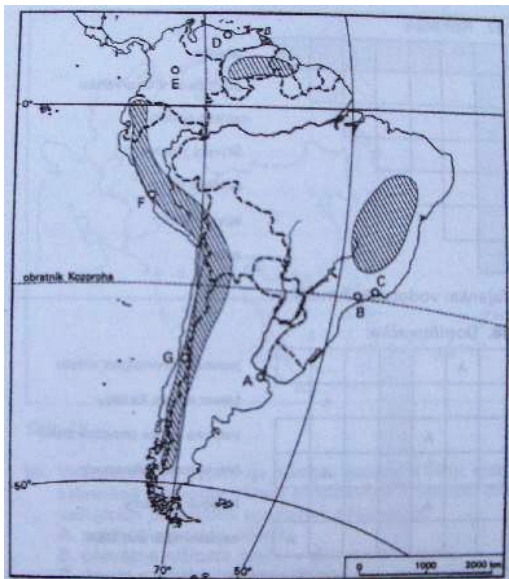
- Nová země
- Viktoriina země

(1b)



- c. Ohňová země
 - d. Země královny Maud
- 11) Jihoamerický poušť podél pobřeží Tichého oceánu v podhůří And se nazývá: (1b)
- a. Aconcagua
 - b. Atacama
 - c. Sahara
 - d. Gobi
- 12) Na území Amazonské nížiny převládá vegetační geografické šířkové pásmo: (1b)
- a. savany
 - b. stepi
 - c. tropické deštné lesy
 - d. lesostepi
- 13) V tropické oblasti Jižní Ameriky se pěstují převážně tyto plodiny (vyberte správné odpovědi): (3b)
- a. kávovník
 - b. kakaovník
 - c. pšenice
 - d. cukrová třtina
 - e. banány
 - f. cukrová řepa
 - g. sója
- 14) Na obrysové mapce Jižní Ameriky jsou vyznačeny písmeny A - G významná města světadílu. Přiřaďte písmeno a město k sobě: (7b)

Bogota, Santiago de Chile, Sao Paulo, Rio de Janeiro, Caracas, Lima, Buenos Aires



- 15) Vyber živočichy, kteří NEžijí v amerických prériích: (3b)
- a. kojot
 - b. skunk

- c. klokan
- d. bizon
- e. zubr
- f. psoun
- g. krocán
- h. bažant

16) Na území dnešního Peru se rozkládala starobylá říše (1b)

- a. Inků
- b. Mayů
- c. Apačů
- d. Aztéků

17) Nejvyšším vrcholem And je: (1b)

18) Na obrázku je nejvyšší vodopád světa. Jak se nazývá? (1b)

- a. Niagarské vodopády
- b. Salto Angel
- c. Vodopády Iquacu
- d. Viktoriiny Vodopády



celkem 37 bodů

Správné odpovědi: 1) východ 2) Indický oceán 3) C 4) C 5) D 6) Colorado – Kalifornský z., Mackenzie - Beaufortovo m., Yukon – Beringovo m., Mississippi – Mexický z. 7) A 8) anglicky, Severní Amerika, USA a

Kanada, Latinská Amerika 9) C,E,G 10)C 11) B 12) C 13) A.B.D.E.G 14) E,G,B,C,D,F,A 15)C,E,H 16)A 17)
Aconcagua 18)B