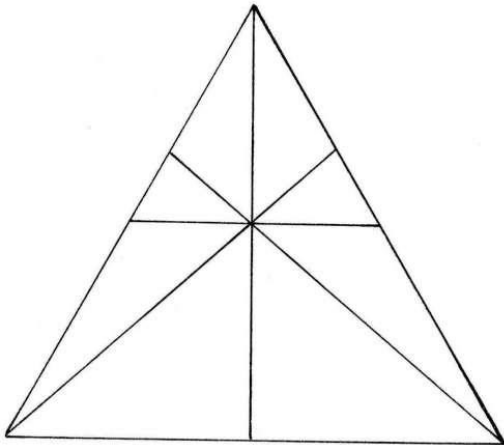



**Úkol 1.** Kolik trojúhelníků je na obrázku A?

**Úkol 2.** Kolik číslic je v obrázku B? Určete počet pro každou číslici.

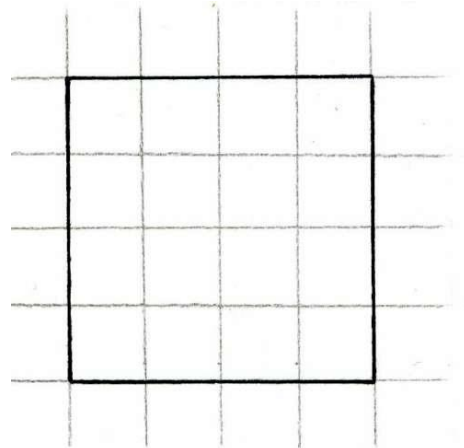
A.



B.



**Úkol 3.** Rozstříhejte čtverec na **dvě shodné** části. Stříhat můžete jen po čarách čtvercové sítě (tj. nelze např. vytvořit dva trojúhelníky rozstřížením po uhlopříčce). Objevte **všechna řešení**. Zkuste úlohu řešit nejdříve bez nůžek!



**Úkol 4.** Rozstříhejte šrafovaný útvar na osm **shodných** částí. Stříhat můžete jen po čarách čtvercové sítě. Objevte **všechna řešení**. Zkuste úlohu řešit nejdříve bez nůžek!

