


Akordy

Jméno a příjmení: _____


1) (Zakroužkujte správné tvrzení):

Hovoříme-li o akordech, máme na mysli horizontální/vertikální složku hudby a jejího zápisu.


2) Určete, o jaké akordy se jedná:



3) Vytvořte zadané akordy od daného tónu směrem vzhůru (zadaný tón je tón spodní) a určete tóninu akordu.



4) Vytvořte zadané akordy od daného tónu směrem dolů (zadaný tón je tón svrchní) a určete tóninu akordu.



5) Vytvořte zadané akordy

- des 5ak
- B 6ak
- c 6/4ak
- fis zm5ak
- As zv5ak
- H 6/4ak
- Dis 5ak
- Fes 6ak
- g 6/4 ak

