

# PERU

1. Uveď jeden indiánský jazyk, kterým se v Peru mluví.

.....

2. Jaké zemědělské plodiny se v Peru pěstují? Uveď alespoň tři.

.....


3. Kdo obýval území Peru, když bylo objeveno Španěly?

.....

4. Vyznač na mapce peruánské hlavní město a město Cusco.



5. Barevně zakresli tři základní typy krajiny: pobřeží - žlutá, hory - modrá, prales – zelená.



### 6. Vyškrtni zvířata, která v peruánské volné přírodě nežijí.

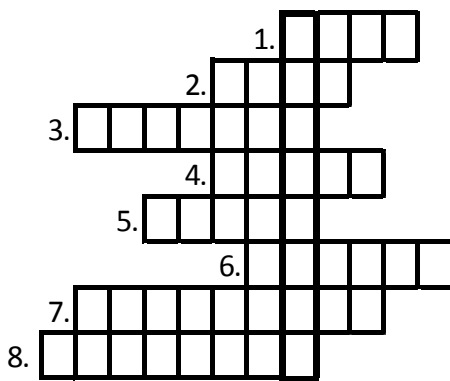
slon, piraňa, kondor, zebra, činčila, morče, lev, žirafa

### 7. Vylušti jména zvířat a přiřaď k obrázkům.

ALAM, UMAP, RODKON, PÍRTA, MEČOR

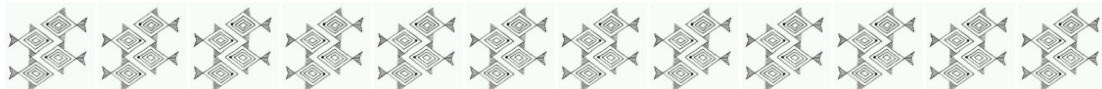


### 8. Křížovka:



- 1) Pohoří v Peru.
- 2) Kočkovitá šelma.
- 3) Kontinent, na kterém se Peru nachází.
- 4) Jedna z předinckých kultur, po které zůstaly zachovány geoglyfy.
- 5) Surovina, ze které se vyráběly šperky a umělecké předměty.
- 6) Národ, který obýval území Peru před příchodem Španělů.
- 7) Státní zřízení v Peru.
- 8) Plodina, která se v Peru pěstuje.

Tajenka:.....




## 9. Osmisměrka:

A	V	Á	K	I	J	U	L
N	M	N	A	Z	T	A	F
D	P	E	R	U	F	U	O
Y	Z	I	R	Í	P	A	T
E	S	N	Č	I	N	I	B
H	M	O	P	J	K	O	A
P	O	Z	E	G	E	A	L
B	R	A	R	T	Č	K	X
O	Č	M	L	I	U	N	E
Y	E	A	X	D	A	I	D

## 10. Obrázky na vybarvení. Uveď, co na nich vidíš, koho nebo co představují.

Inkové.....

Machu Picchu.....



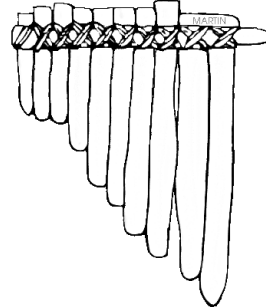
Maska Intiho boha slunce

Z čeho byla vyrobená? .....




phillemartin.info

Sampoñas. Co je to?.....



phillemartin.info


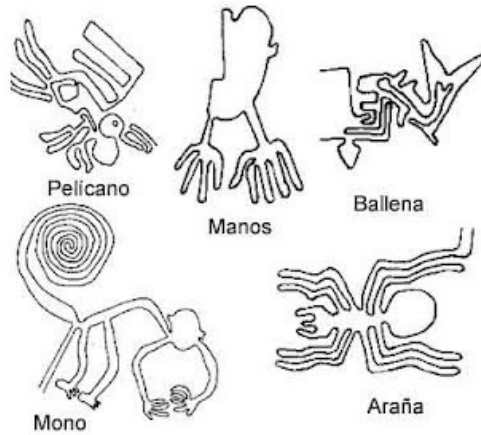
Bůh Viracocha. Kdo ho uctíval?



Nasca – geoglyfy . Co je to?

Přiřaď k obrázcům

pelikán, ruce, velryba, opice, pavouk



**11. Vyznač v mapě světa červeně Peru a modře Českou republiku. Tečkou zakresli hlavní města obou zemí.**

**12. Vyznač trasu z Brna do Cusca.**

**13. Do mapy světa barevně zaznač země, se kterými Peru sousedí.**

**Sever: Ekvádor- světlemodře, Severovýchod: Kolumbie – žlutě,**

**východ: Brazílie – zeleně, jihovýchod: Bolívie – červeně,**

**jih: Chile – tmavěmodře**

**14. Barevně na mapě vyznač řeku Amazonku a amazonský prales v jejím okolí. Do kterého oceánu se Amazonka vlévá?**

**15. K jakému oceánu má Peru přístup?**

**16. Na hranicích mezi Peru a Bolívií se nachází nejvýše položené splavné jezero, jmenuje se Titicaca. Zakresli ho do mapy.**

