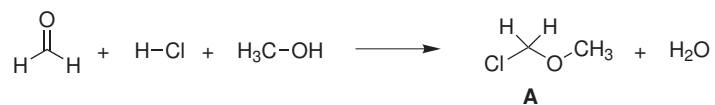


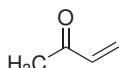
Domácí úkol č. 5

1. Pokuste se napsat podrobný reakční mechanismus, který vysvětlí vznik produktu **A** z formaldehydu, HCl a methanolu

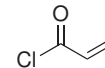
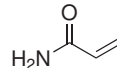


2. V následujících dvojicích látek označte tu, která bude při adici nukleofilu poskytovat větší podíl 1,2-aduktu.

a)

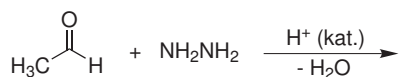


b)

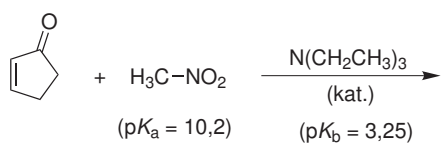


3. Doplňte produkty (meziprodukty) následujících reakcí:

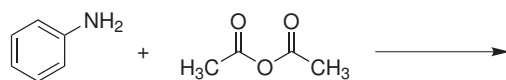
a)



b)



c)



d)

